

銘傳大學 101 學年度轉學生招生考試

商品設計學系

二年級第二節

「立體設計」試題

(第 1 頁共 1 頁)

可使用計算機 不可使用計算機

注意：(1)本試題紙共一頁，請依題號作答，並標示題號。

(2)每位同學可分得五張空白紙，所有答案均須作答於空白紙上。作答時，可先於多餘的空白紙上打草稿，再行作答。

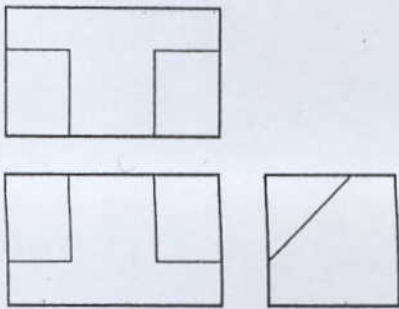
(3)所有答案紙(含草稿)均須繳回。

一. 請以抽象構成的觀點解釋以下名詞(20%)

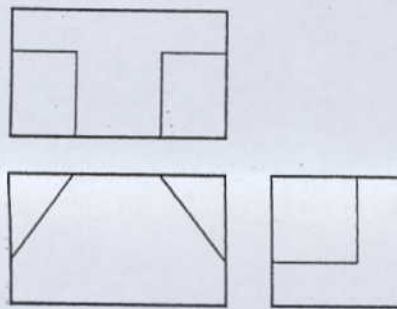
1. 統一(5%) 2. 律動(5%) 3. 調和(5%) 4. 均衡(5%)

二. 請將下列三組三視圖，以兩點透視分別表現出其立體形狀(30%)

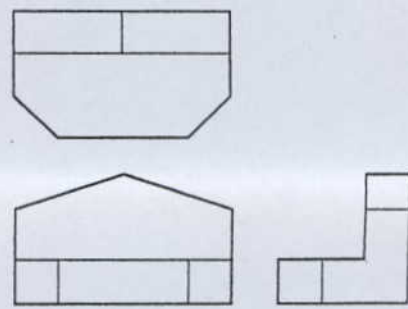
A.(10%)



B.(10%)



C.(10%)



三. 居家客廳用大茶几(50%)

說明：簡單形體包含球體、半球體(球體之一半)、矩形體、圓柱體、半圓柱體(沿圓柱體之心軸方向裁切而成)、線材以及頂、底面均為平面之圓錐、三角錐、與梯形體等。請選用數種，每種之數量不拘，並自行調整出你/妳所需要的比例後，組合設計成一居家客廳用大茶几(50%)。

評分要點：a. 三視圖之正確性 b. 設計案之創意、美感、兩點透視之正確性與光影及材質表現

(1). 三視圖(10%)：請依比例繪製且須標註外觀主要尺寸。

(2). 著色之兩點透視圖(30%)：表現媒材不拘。

(3). 設計創意說明(10%)：請自行決定設計說明之表現方式。

試題完
End of exam

試題完